

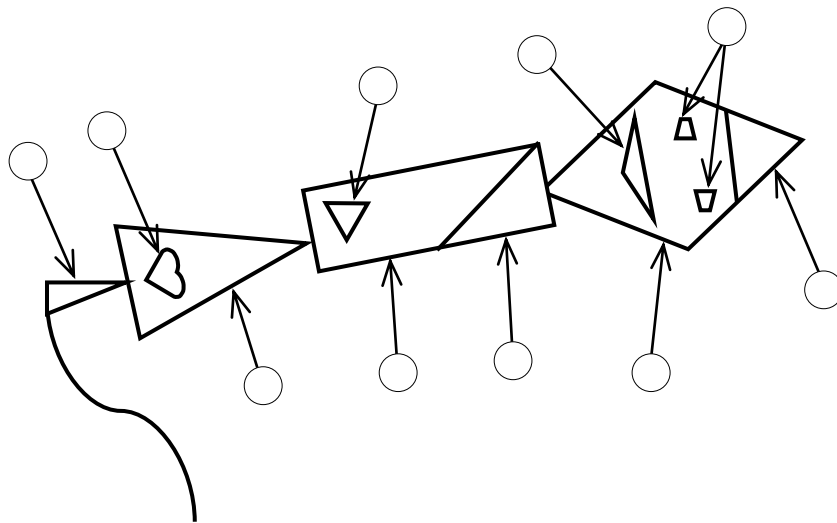
ИТОГОВАЯ РАБОТА ПО МАТЕМАТИКЕ ДЛЯ 1 КЛАССА  
(2012/2013 учебный год)

Вариант 2

Школа \_\_\_\_\_ Класс 1 \_\_\_\_\_

Фамилия, имя \_\_\_\_\_

1. Какие детали воздушного змея имеют форму треугольника? Отметь их ⊗.



2. Выполни действие. Запиши ответ.

$$2 + 9$$

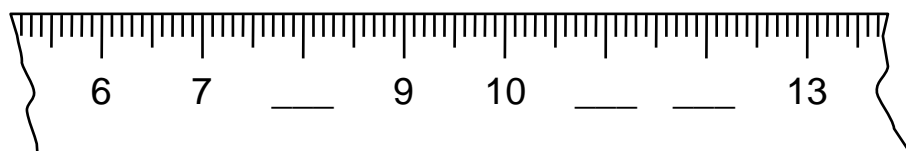
Ответ: \_\_\_\_\_

3. Выполни действие. Запиши ответ.

$$19 - 7$$

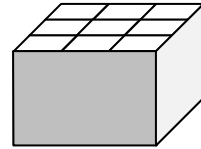
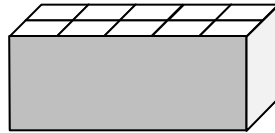
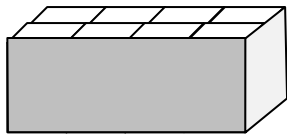
Ответ: \_\_\_\_\_

4. Впиши пропущенные числа.





9. У Миши солдатики. В какую коробку он может их сложить, если в каждую ячейку можно положить только одного солдата и все ячейки должны быть заняты? Отметь коробку .



10. Выбери число, которое на 4 больше, чем 9. Отметь .

5



9



13



14



11. Таня наловила бабочек. Бабочек больше 9, но меньше 12. Сколько бабочек могла наловить Таня?



Ответ: \_\_\_\_\_

12. Гена сложил несколько одинаковых чисел и получил в ответе 8.



Какие числа сложил Гена?

Решение 1: \_\_\_\_\_

Решение 2: \_\_\_\_\_

Решение 3: \_\_\_\_\_

