

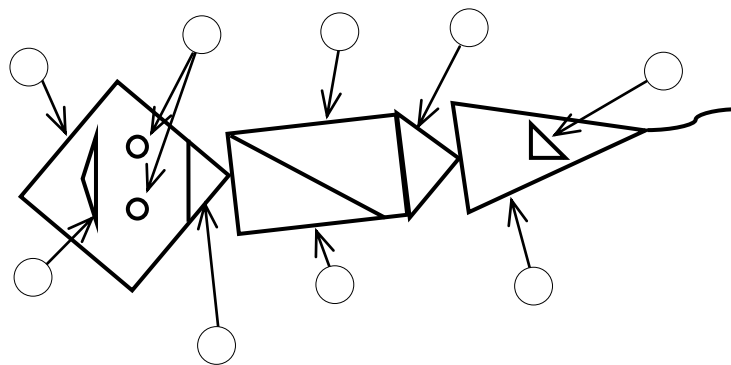
ИТОГОВАЯ РАБОТА ПО МАТЕМАТИКЕ ДЛЯ 1 КЛАССА
(2012/2013 учебный год)

Вариант 1

Школа _____ Класс 1 _____

Фамилия, имя _____

1. Какие детали воздушного змея имеют форму треугольника? Отметь их .



2. Выполни действие. Запиши ответ.

$$14 - 8$$

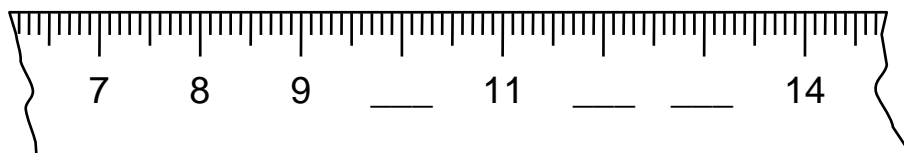
Ответ: _____

3. Выполни действие. Запиши ответ.

$$11 + 8$$

Ответ: _____

4. Впиши пропущенные числа.



5. Ручка стоит девять рублей, а карандаш на два рубля дешевле. Сколько стоит карандаш? Отметь .


2 р.

7 р.

5 р.

9 р.

6. Рассмотрй рисунок. На сколько штук больше яблок, чем лимонов?



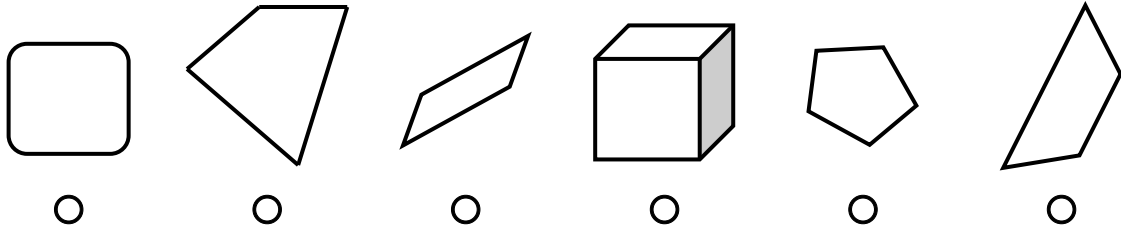
Ответ: на _____

Запиши решение.

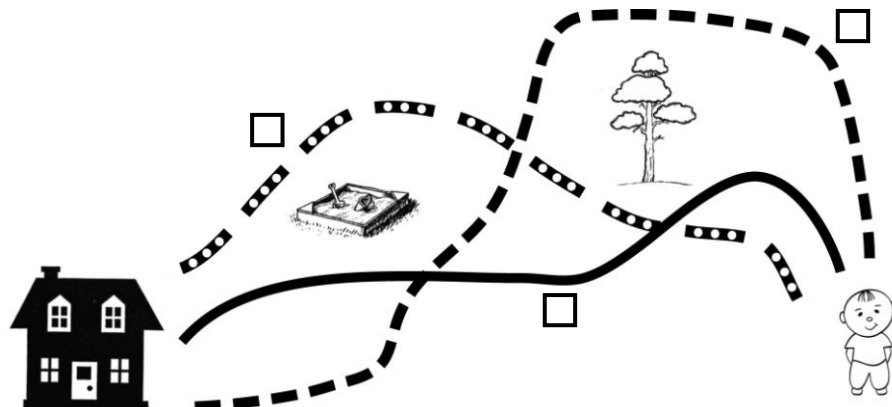
Решение:

Ответ: на																						

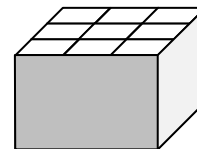
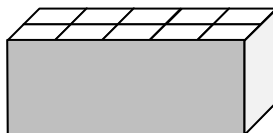
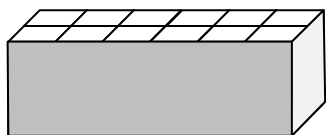

7. Найди все четырёхугольники. Отметь их ⊗.



8. Мише надо пройти к дому. По какой дороге ему надо пойти, чтобы сосна была справа, а песочница – слева? Отметь ⊗.



9. У Миши солдатики. В какую коробку он может их сложить, если в каждую ячейку можно положить только одного солдата и все ячейки должны быть заняты? Отметь коробку .



10. Выбери число, которое на 4 больше, чем 9. Отметь .

5



9



13



14



11. Вася наловил рыбы для кошки. Рыб больше 11, но меньше 14. Сколько рыб мог поймать Вася?



Ответ: _____

12. Гена сложил несколько одинаковых чисел и получил в ответе 8. Какие числа сложил Гена?



Решение 1: _____

Решение 2: _____

Решение 3: _____

